

Abschlussarbeiten 2016	Mathematik 03.05.2016	Schülermaterial Hauptschule 9
Hauptschulabschluss 9	Allgemeiner Teil G- und E-Kurs	Bearbeitungszeit: 120 min

Name: .....

Klasse: .....

**Es wurden gewählt:**

Wahlaufgabe W1 (    )

Wahlaufgabe W2 (    )

Wahlaufgabe W3 (    )

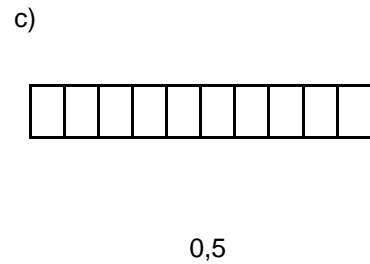
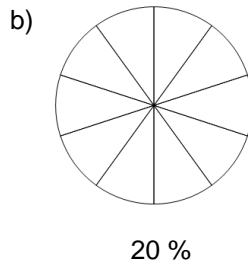
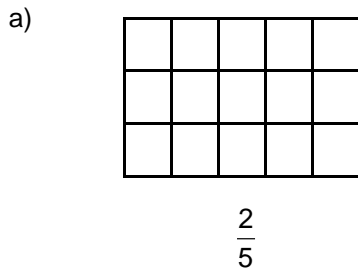
Wahlaufgabe W4 (    )

	Allgemeiner Teil	Pflichtteil	Wahlteil	Summe
Erreichte Punkte				
Mögliche Punkte	28	36	20	84

Note	Datum, Unterschrift 1. Korrektor/-in	Datum, Unterschrift 2. Korrektor/-in



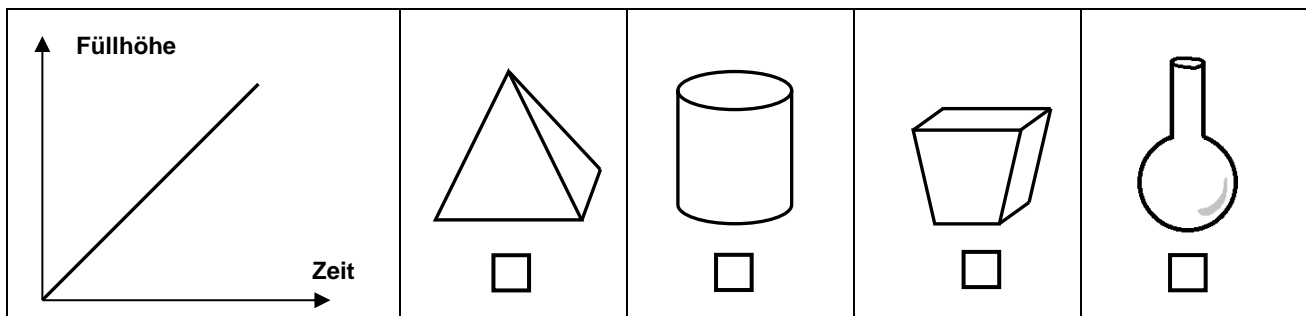
7. Färbe den angegebenen Anteil der Figur.



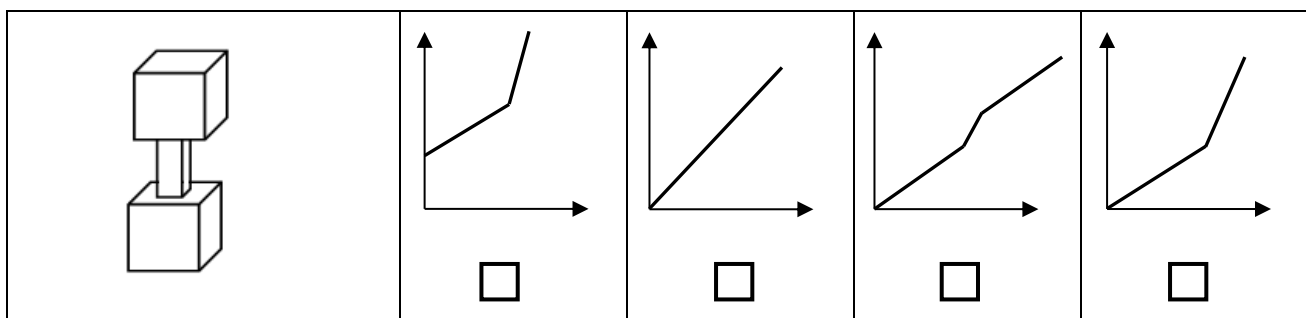
8. Kreuze eine passende Einheit an.

	m	m <sup>2</sup>	m <sup>3</sup>
Flächeninhalt eines Zimmers			
Wasserverbrauch eines Haushaltes			
Größe eines Schulhofes			
Länge eines Schwimmbeckens			

9. a) Kreuze das richtige Gefäß an.



b) Kreuze den passenden Füllgraphen an.



10. Wahr oder falsch? Kreuze an.

	wahr	falsch
In einem Rechteck sind die gegenüberliegenden Seiten parallel.		
Jedes Quadrat hat vier Symmetrieachsen.		
Die Winkelsumme eines Rechtecks beträgt 180°.		

	7			8	9		10
	a	b	c		a	b	
Erreichte Punkte							
Mögliche Punkte	1	1	1	2	1	1	3